




الصفحة	<b>الامتحان التجريبي الموحد للبحالوريا</b> <b>الدورة العادية 2020</b> <b>. الموضوع .</b>		  
1			
		NS	
3	مدة الإنجاز	Economie générale et statistique	المادة
	المعامل	Filière : Sciences Economiques	الشعبة أو المسلك

## **DOSSIER N° 1 : DYSFONCTIONNEMENTS DES MARCHES ET AGREGATS DE LA COMPTABILITE NATIONALE**

### **DOCUMENT N° 1 : La situation du marché du travail au Maroc**

En 2019, la situation du marché de travail a été marquée par la persistance de la baisse des taux d'activité et d'emploi. La population en âge d'activité (15 ans et plus) s'est accrue, par rapport à 2018, à un rythme plus important (+1,6%) que celui de la population active (+1,1%).

Le taux de chômage est ainsi passé de 9,5% à 9,2% au niveau national ; de 13,8% à 12,9% en milieu urbain et de 3,6% à 3,7% en milieu rural. Les taux de chômage les plus élevés affectent avec 13,5% les femmes, 15,7% les diplômés et 24,9% les jeunes âgés de 15 à 24 ans.

Source : [www.hcp.ma](http://www.hcp.ma) (Texte adapté)

### **DOCUMENT 2 : L'inflation au Maroc 2020**

Les dernières nouvelles de Bank Al-Maghrib pour l'année 2020 ne sont pas fameuses. Les Marocains devront encore se serrer la ceinture pour subvenir à leurs besoins les plus élémentaires. Alors que l'inflation est déjà sur une tendance haussière, elle devrait atteindre 1,3% au premier trimestre 2020. Portée par l'accélération prévue de sa composante sous-jacente, à savoir les prix des produits alimentaires à prix volatils et des carburants et lubrifiants, elle devrait néanmoins s'établir à 0,7% le reste de l'année après 0,3% un trimestre auparavant, a fait savoir, mardi dernier, la Banque centrale à l'issue de sa première session tenue à Rabat.

Source : <https://lesec.ma/>

### **DOCUMENT 3 : Maroc, croissance économique en 2019**

La croissance économique marocaine devrait se situer à 2,7% en 2019 au lieu de 3% enregistrée en 2018, a annoncé, mardi à Casablanca, le Haut-commissaire au Plan (HCP) Ahmed Lahlimi Alami.

Ce ralentissement est imputable au repli de 2,1% de la valeur ajoutée du secteur primaire, ce qui contribuerait négativement à la croissance du produit intérieur Brut de -0,3 point en 2019 au lieu d'une contribution positive de 0,3 point une année auparavant, a-t-il expliqué lors d'une conférence de presse dédiée à la présentation de la situation économique nationale en 2019 et ses perspectives en 2020.

Sources : [www.lematin.ma](http://www.lematin.ma) au 11/07/2017 et HCP (Comptes nationaux provisoires 2016)

### **TRAVAIL À FAIRE:**

1. Citer deux composantes d'un marché ? 0.5 pt
2. A partir du document 1, dégager deux caractéristiques du marché du travail au Maroc en 2019 ? 1 pt
3. Quelle différence faites-vous entre la déflation et la stagflation ? 0.5 pt
4. Qu'est-ce qu'on entend par le chômage déguisé ? 0.5 pt
5. On vous fournit les données suivantes relatives à la population d'un pays :
  - population totale : 4 025 986 personnes
  - population inactive : 986 324 personnes
  - population active occupée : 2 569 321 personnes
 a-calculer le nombre de la population active ? 0.5 pt  
 b-calculer le taux de chômage ? 0.5 pt  
 c-commenter le taux de chômage obtenu ? 0.5 pt
6. A partir du document 3, quelle est la cause principale du ralentissement de la croissance économique au Maroc en 2019 ? 0.5 pt
7. Quelle est la différence entre le PIB et le PNB ? 0.5 pt

## **DOSSIER 2 : POLITIQUES ECONOMIQUES ET ECHANGES EXTERIEURS**

### **DOCUMENT 4 : Maroc : Données budgétaires du projet de la loi de finances 2018**

Le montant des recettes ordinaires du Budget Général s'établirait à 228 milliards de dirhams (MMDH) en 2018 contre 217 MMDH en 2017. Les dépenses de fonctionnement et les dépenses relatives aux intérêts et commissions de la dette publique s'établiraient respectivement à 188,71 MMDH et 27 MMDH en 2018.

#### **Evolution des dépenses de personnel et de fonctionnement en milliards de dirhams**

Années	2014	2015	2016	2017	2018
Dépenses de personnel	<b>101,51</b>	<b>102,67</b>	<b>104,32</b>	<b>106,7</b>	<b>108,85</b>
Dépenses de fonctionnement	<b>199,35</b>	<b>194,76</b>	<b>186,36</b>	<b>182,47</b>	<b>188,71</b>

Sources : www.finances.gov.ma, note de conjoncture n°245 et www.oc.gov.ma (Texte adapté)

### **DOCUMENT 5: Situation monétaire au Maroc en 2016**

En 2016, les conditions monétaires ont été marquées par la poursuite de la détente des taux d'intérêt, sous l'effet principalement de la réduction du taux directeur, ainsi que par une légère hausse du taux de change, reflétant une appréciation du dirham face notamment aux monnaies des principales économies concurrentes sur le marché européen.

L'année a été caractérisée également par une nette amélioration de la liquidité bancaire, le besoin s'étant atténué de plus de moitié à 14,4 milliards de dirhams en moyenne hebdomadaire, sous l'effet de la poursuite du renforcement des réserves internationales nettes qui ont progressé de 12,1% après 23,5% une année auparavant.

Source : Rapport BAM 2016 (Texte adapté)

### **DOCUMENT 6 : Maroc, échanges extérieurs au premier semestre 2017**

Selon les données de la balance des paiements au terme du premier semestre 2017, la situation des échanges extérieurs a été marquée par le creusement du déficit commercial des biens de 8,2% par rapport à la même période de l'année précédente. Cette évolution a résulté de la hausse des importations de 7,3%, soit à un rythme dépassant celui des exportations qui ont augmenté de 6,6% pour atteindre 104,2 milliards de DH (MMDH), durant la même période. De ce fait, le taux de couverture (TC) a baissé de 0,4 point pour s'établir à .. ?..%.

L'évolution notable et continue des importations marocaines répond à un besoin pressant de développement tant économique que social. Elle est attribuée essentiellement aux achats de biens d'équipement et aux matières premières. S'agissant des exportations, elles sont largement dominées par les produits traditionnels qui sont généralement primaires ou à valeur ajoutée limitée.

#### **Extrait de la balance des paiements marocaine au premier semestre 2017**

Rubriques	Soldes en MM DH
<b>Biens et services :</b>	- 60,47
Biens	-86,85
Services	+26,38
<b>Revenu primaire</b>	-11,71
<b>Revenu secondaire</b>	+34,14

Sources : www.finances.gov.ma, note de conjoncture n°245 et www.oc.gov.ma (Texte adapté)

### **DOCUMENT 7 : Maroc, vers une flexibilité du régime de change**

La réflexion sur la flexibilité du régime de change a débuté en 2007 pour permettre au Maroc d'être en ligne avec la libéralisation de son économie. Cette réforme du régime de change est également encouragée par la fragilité du régime de change fixe face à l'éventualité d'un choc extérieur important. Si ce choc venait à se produire, il faudrait une forte dévaluation de la monnaie d'un seul coup et supporter les conséquences que cela pourrait avoir sur l'économie et la société. C'est pour cela que Bank Al Maghrib envisage d'introduire plus de flexibilité dans le régime afin d'assurer une plus grande continuité dans l'ajustement à l'équilibre extérieur. Les autorités monétaires au Maroc sont conscientes que le taux de change a un impact important sur la compétitivité – prix des produits exportés : **une dépréciation de la monnaie nationale aura ainsi un effet positif sur cette compétitivité**. A l'inverse, cette même dépréciation rend les produits importés plus chers. Ainsi, un certain niveau de flexibilité du dirham serait souhaitable pour améliorer les conditions de l'insertion internationale de l'économie nationale.

Source :www.Telquel.ma au 14/01/2017 (Texte adapté)

## TRAVAIL À FAIRE:

1. **Calculez** et **lisez** le solde ordinaire prévisionnel pour l'année 2018 (document 4) ; **0.5 pt**
2. **Déterminez** l'équation de la droite d'ajustement linéaire  $y = ax+b$  selon la méthode des moindres carrés (méthode développée), sachant que : **x** : dépenses de personnel ; **y** : dépenses de fonctionnement  
-  
-  
 $x = 104,81$  ;  $y = 190,33$  ;  $\sum x_i y_i = 99\,683,73$  ;  $\sum x_i^2 = 54\,961,28$  **1 pts**
3. **Calculez** le montant prévisionnel des dépenses de fonctionnement pour des dépenses de personnel de 120 milliards de DH. **0.5 pt**
4. **Sur la base du document 5, relever : 1.5 pt**  
**Un instrument de la politique monétaire à objectif interne**  
**Un instrument de la politique monétaire à objectif externe**  
**Une contrepartie de la masse monétaire**
5. **Expliquez** la baisse du besoin de liquidité bancaire en 2016 ? **0.5 pt**
6. **Montrez** l'impact positif éventuel de cette baisse de la liquidité sur la croissance économique. **0.5 pt**
7. **Calculez** et **lisez** le taux de couverture et le solde du compte des transactions courantes pour le premier semestre 2017 (document 6) **1.5 pts**

Indicateur	formule	Calcul et résultat	lecture
Taux de couverture			
Solde du compte des transactions courantes			

8. **Expliquez** l'aggravation du déficit de la balance commerciale au premier semestre 2017. **0.5 pt**
9. **Relevez** trois avantages de la flexibilité du régime de change pour le Maroc ; (document 7) **0.5 pt**
10. **Distinguez** entre dévaluation et dépréciation du dirham ; **(0,5 pt)**
11. **Expliquez** le passage en gras souligné. (document 7) **0.5 pt**
12. **Synthèse** : (**Exploitez les documents 6 et 7 du dossier 2, vos réponses et vos connaissances acquises**).  
Les indicateurs du commerce extérieur marocain montrent que ce dernier souffre de plusieurs faiblesses. Cependant, selon certains économistes, l'adoption d'un régime de change flexible peut contribuer à son amélioration.  
Après avoir présenté les faiblesses du commerce extérieur marocain, montrez comment une flexibilité du dirham (en cas d' **appréciation et de dépréciation**) pourrait-elle améliorer sa situation. **1 pt**

## DOSSIER 3 : ECHANGES EXTERIEURS ET DEVELOPPEMENT

### DOCUMENT 8 : Maroc, échanges extérieurs encore en souffrance

Le déséquilibre du commerce extérieur au Maroc n'a pas cessé de se creuser, reflétant ainsi la faiblesse de la compétitivité de l'économie nationale.

En 2017, le déficit commercial atteint 190,2 milliards de DH, marquant donc une augmentation de 5,2% par rapport à 2016. Selon les prévisions du HCP, ce déficit représente presque 18,8% du PIB en 2017 au lieu de 11% au début des années 2000. En fait, ce déficit structurel est le résultat d'une forte demande sur le marché intérieur satisfaite à plus de **40%** par des importations composées majoritairement de produits incompressibles et insubstituables.

Les exportations faiblement compétitives, avec un dynamisme modéré, ne permettent pas de compenser la hausse des importations.

L'année 2017 a enregistré une baisse des recettes des investissements directs étrangers (IDE) au Maroc de 16% alors que les transferts des marocains résidant à l'étranger et les recettes de voyages ont affiché une hausse par rapport à 2016.

#### Extrait de la balance des paiements du Maroc pour les neufs premiers mois 2017

Rubriques	Soldes en milliards de DH
Biens et services	- 77,1
Revenu primaire	- 15,4
Revenu secondaire	57,7
Investissements directs	- 10,3
Investissements de portefeuille	3,1
Prêts	- 9,8

## DOCUMENT 9 : Plan d'accélération industrielle au Maroc, Quel bilan ?

Le plan d'accélération industrielle (PAI) a été lancé en 2014 afin d'enclencher une dynamique industrielle dans des secteurs à forte valeur ajoutée, mieux intégrés assurant une croissance forte et soutenue.

Le PAI est innovant par son approche « écosystèmes » : pour chaque filière industrielle, il s'agit de favoriser la constitution de très petites et moyennes entreprises complémentaires autour d'une ou de plusieurs grandes entreprises. Cette approche a permis d'attirer des firmes multinationales comme l'avionneur américain Boeing qui a signé une convention d'investissement pour développer son « écosystème » dans la zone de Tanger, entraînant l'implantation de 120 entreprises sous-traitantes. A terme, les investissements engagés devraient générer pour le Maroc un chiffre d'affaires supplémentaire à l'export de 132 milliards de dirhams.

L'objectif du PAI est de porter la contribution du secteur industriel au PIB national à 23 % à l'horizon 2020, contre 14 % en 2014.

Source : www.jeuneafrique.com au 02/08/2017 (Texte adapté)

## DOCUMENT 10 : L'Afrique, quel bilan et quelles stratégies en 2017 ?

Dans la plupart des pays de l'Afrique, depuis le début des années 2000, la pauvreté ne s'est pas réduite et le continent reste toujours marqué par une répartition très inégale des revenus. Cette situation s'explique par la concentration de l'économie des pays de l'Afrique sur l'extraction minière en négligeant l'industrie et l'agriculture, reflétant ainsi l'état d'une économie non diversifiée et dont les différents secteurs ne sont pas assez intégrés. Dans ce sens, l'essentiel de la richesse créée est au profit des propriétaires de produits de base et la croissance économique de l'Afrique dépend principalement de la hausse des cours de ces produits sur le marché international. Cette dépendance appelle à développer l'industrie et l'intégration régionale de l'Afrique.

En outre, l'endettement élevé de l'Afrique nécessite la promotion de moyens permettant de mobiliser davantage les ressources nationales pour financer les plans de développement à long terme.

Source : www.iag-agi.org , Rapport économique sur l'Afrique 2017

## TRAVAIL À FAIRE:

1. Complétez, à partir du document 8, le tableau suivant : (1 pt)

Rubrique	Une composante correspondante
Biens	
Services	
Revenu secondaire	
Compte financier	

2. Relevez trois faiblesses du commerce extérieur marocain (document 8) ; (0,50 pt)  
3. Nommez la donnée en gras soulignée (40%) du document 8 : (0,5 pt)  
4. Calculez et lisez : (1,00 pt)

Éléments	Formule	Application numérique	Résultat	Lecture
Le solde commercial en 2016				-
Le solde du compte des transactions courantes pour les 9 premiers mois 2017				

5. Montrez l'impact éventuel de la baisse des recettes des investissements directs étrangers sur la masse monétaire. (0,50 pt)  
6. A partir du document 9 :  
a- Relevez deux avantages du PAI ; (0,25 pt)  
b- Expliquez l'impact positif éventuel du PAI sur la balance des paiements ; (0,50 pt)  
c- Montrez que le PAI permettrait d'atténuer la désarticulation de l'économie marocaine. (0,50 pt)  
7. A partir du document 10 :  
a- Relevez : (0.75 pt)  
Deux indicateurs économiques du sous-développement en Afrique ;  
Deux indicateurs non économiques du sous-développement en Afrique ;

Une stratégie permettant à l'Afrique de faire face à la mondialisation :

**b- Dégagez : (0,5 pt)**

<b>Une théorie explicative du Sous-développement</b>	<b>Auteur</b>	<b>Illustrations</b>